

壹

商業興盛的宜蘭城

右圖是清代的宜蘭城地圖，請你對照地圖回答下面的問題：

- () 1. 從地圖中，你可以發現清代的宜蘭城很接近什麼形狀？
 A. 三角形 B. 圓形
- () 2. 清代宜蘭城的行棧及富商宅第大多集中在西邊，想想看，為什麼？
 A. 因為靠近武營，有軍隊就近保護
 B. 因為靠近西門渡口，方便貨物集散
 C. 因為靠近西門，遇到城內動亂時能迅速逃命
 D. 因為地勢較高，免受淹水之苦




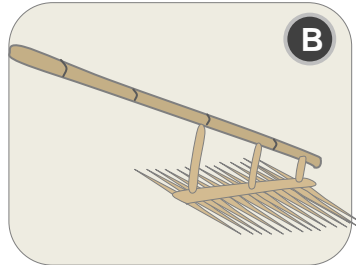
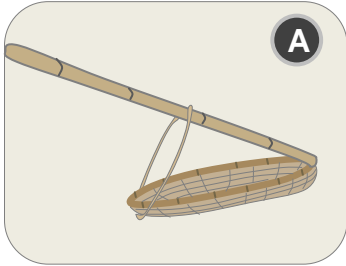
在展場，有日治時期宜蘭城西門商街及渡口的造景，呈現繁忙熱鬧的景象。請你仔細觀察並回答下列問題：

- () 1. 請你仔細觀察打鐵店，你知道打鐵的爐火是以什麼作燃料嗎？
 A. 木炭 B. 煤礦 C. 薪柴 D. 柴油
- () 2. 宜蘭出產許多稻米，西門商街是重要的集散地。展場商街中間那家賣米的行郊，店名叫做什麼？
 A. 湯肯 B. 珍香商行 C. 奧州屋 D. 蘭陽文旅
- () 3. 在米郊中有兩個人，他們正在做什麼？
 A. 秤米的重量 B. 扛米進倉庫 C. 下棋 D. 喝小酒聊天
- () 4. 展場的商店中，販賣雜貨的商店叫什麼名字？
 A. 湯肯 B. 珍香商行 C. 奧州屋 D. 蘭陽文旅
- () 5. 展場中賣什細的人，擔子裡有什麼「什細」(複選)？
 A. 髮夾 B. 香水 C. 痲子粉 D. 針線

貳 稻作筆記

◆選選看：

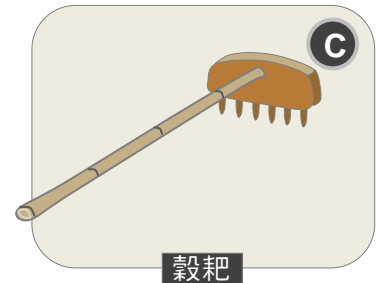
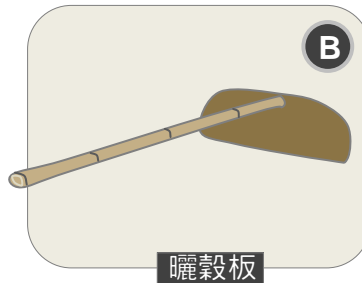
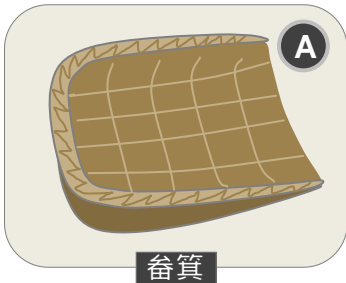
你知道下列傳統農具的名稱及用法嗎？（請填代號）



- () 手推除草機－用於除草。
 () 蟲勺－用於捕蟲。
 () 蟲刷－用於捕蟲。
- () 想想看，這一區的農具，大多在哪個農耕階段使用？
 1.春耕 2.夏耘 3.秋收 4.冬藏

◆填填看：

下面的傳統農具各有什麼用途呢？



- 1.曬穀時可以用來耙稻穀的農具有哪兩個？
 ()
- 2.可用來盛裝、搬運肥料與稻穀等物品的是哪一個農具？
 ()
- 3.可藉由風力的掏選，將飽滿的稻穀與重量較輕的秕、雜草區隔出來的是哪一個農具？
 ()
- 4.想想看，這一區的農具，大多在哪個農耕階段使用？
 () 1.春耕 2.夏耘 3.秋收 4.冬藏

